

***CONEIXEMENT DEL MEDI
NATURAL, SOCIAL I CULTURAL***

TEMA 11 (onze)

**LES COMARQUES
DE
CATALUNYA**

Nom i cognoms.....

4rt curs

Aquest és el mapa de Catalunya

N
(nord)


O
(oest)



E
(est)

S
(sud)

Catalunya limita al nord amb França i Andorra. A l'est limita amb la mar Mediterrània. A l'oest limita amb Aragó. Al sud limita amb la Comunitat Valenciana.

 Catalunya limita al amb
i A l'est limita amb la mar
..... A l'oest limita amb
Al sud limita amb la



Encercla les lletres de CATALUNYA

C c

C F C Ç D
R K X
i u d c d f

A a

A C G I N A
Y A p v ç
C o a a r b

T t

T T M L Y C
A w t s b f t t
r u s t T r

A a

R S A A O
X Ç a j p b
r r w q r y

L l

L B l C a D L
L R d l g m
o L l e

U u

U U F J G A
U ç o p u U x
E U i q u u

N n

N N M H K A
N n D s p v s
T h n n m

Y y

Y Q Ç W S
Y a r s f
Y y h j x z

A a

A Z I J A
m y g x j A
r u a e s



Escriu el nom de Catalunya

Catalunya Catalunya Catalunya
Catalunya Catalunya Catalunya



Completa el mapa i els punts cardinals

N
(n.....)



O
(o.....)

E
(e.....)

S
(s.....)





Busca els punts cardinals (nord, sud, est i oest) a la sopa de lletres

A	R	S	T	V	M	K	G	H	I	J	L	P
N	O	R	D	L	P	E	D	P	H	Q	W	
A	S	D	U	O	E	S	T	N	B	F	X	
R	Ç	U	D	I	J	P	T	Y	S	U	D	R

Un MUNICIPI està format per la localitat on vius i els territoris que l'envolten.

La localitat pot ser un POBLE o una CIUTAT


El poble és petit	La ciutat és gran
	

Badalona és una ciutat.

Badalona és una ciutat

 *Badalona és una ciutat*

Moltes localitat properes formen un municipi. Un conjunt de municipis formen una COMARCA

	<p>Nosaltres vivim a la Comarca del BARCELONÈS.</p> <p>Els municipis que la formen són:</p> <p><i>Badalona, Barcelona, Sant Adrià del Besòs, Santa Coloma de Gramenet i l'Hospitalet del Llobregat</i></p>
---	--

Catalunya té 41 comarques.



Busca la teva comarca (el Barcelonès) al mapa de Comarques de Catalunya i escriu el nom de les comarques que té al voltant



M....., V..... O....., V O..... i

B..... Ll.....

La capital d'una comarca és la ciutat més important.
La capital del Barcelonès és Barcelona.

- La capital del Barcelonès és Barcelona.
- Quina és la capital del Barcelonès?

.....

Nom:

Data:

LES COMARQUES DE CATALUNYA

Catalunya té 41 comarques.

40 (quaranta) 41 (quaranta-una)

Cada comarca té la seva capital.

La capital de comarca és la ciutat

més important. Hi ha l'hospital.

La capital té bones carreteres

Catalunya té 3 (tres) tipus de comarques:

1)Comarques de muntanya:
Estan situades a les muntanyes



2)Comarques d'interior:
Estan situades a les planes



3)Comarques de costa
Estan situades a prop del mar



 Quins tipus de comarques té Catalunya?

Catalunya té tres tipus de comarques:

1).....

2).....

3).....

 Completa:

Les comarques de la costa estan situades

LES COMARQUES DE MUNTANYA

Estan en zones amb muntanyes molt altes
valls estretes.

A l'hivern neva i a l'estiu fa poca calor. Hi ha boscos de pi negre i avet

Els pobles són petits.

Hi ha masies aïllades.

Les carreteres són estretes amb molts revolts.



Completa

Estan en zones ambmolt
altes iestretes.

A l'hiverni a l'estiu fa poca calor.
Hi ha boscos denegre i.....

Els pobles són.....

Hi haaïllades

La gent treballa en laa i el
.....

Lessón estretes amb molts
revolts

LES COMARQUES DE MUNTANYA

Estan en zones amb *muntanyes*



molt altes i

valls estretes.



A l'hivern neva



i a l'estiu fa poca calor.

Hi ha boscos de *pi negre*
Els pobles són petits.



i *avet*



Hi ha *masies* aïllades.



Les carreteres són estretes amb molts revolts





Completa

Estan en zones ambmolt
altes iestretes.

A l'hiverni a l'estiu fa poca calor.

Hi ha boscos denegre i.....

Els pobles són.....

Hi haaïllades.

La gent treballa en laa i el

.....

Lessón estretes amb molts
revolts.



Escriu el nom





Busca aquestes comarques de muntanya

Cerdanya, Solsonès, Berguedà, Ripollès, Garrotxa

K	L	M	T	V	V	B	Z	X	A	S	B	R	I	O	P	B
Q	C	E	R	D	A	N	Y	A	B	S	E	F	R	G	H	J
A	E	G	J	W	S	C	Ç	U	R	R	T	Y	I	K	J	K
Z	W	T	H	S	F	H	J	B	M	B	N	C	P	E	Y	L
G	A	R	R	O	T	X	A	A	S	R	T	U	O	J	G	B
C	R	Y	G	L	C	D	T	A	D	C	X	V	L	G	F	M
Ç	T	U	F	S	R	R	U	V	T	E	R	F	L	B	V	V
M	Y	I	D	O	I	K	L	B	E	R	G	U	E	D	A	F
Y	G	O	S	N	L	L	O	F	G	Y	E	L	S	N	I	D
T	J	P	A	E	P	Y	Z	W	T	Y	U	B	J	M	U	E
F	S	L	Q	S	D	S	W	R	B	J	S	F	H	T	Y	Q
D	X	K	A	I	V	M	H	E	H	H	X	D	F	G	T	R



Uneix la comarca amb la seva capital

Vall d'Aran

Pallars Jussà

Pallars Sobirà

Garrotxa

Olot

Sort

Tremp

→ Vielha

LES COMARQUES D'INTERIOR

Estan en zones amb muntanyes baixes i planes.

A l'hivern fa fred i a l'estiu fa molta calor.

Hi ha boscos d'alzines.

Els pobles són més grans.

La gent treballa en la ramaderia, l'agricultura i la indústria.

Les carreteres són amples .



Completa

Estan en zones amb baixes i planes.

A l'hivern fa i a l'estiu fa

Hi ha boscos d'.....

Els pobles són més.....

La gent treballa en la.....,

l'..... i la.....

Les són amples .

LES COMARQUES D'INTERIOR

Estan en zones amb *muntanyes baixes*



i *planes*



A l'hivern fa fred i a l'estiu fa molta calor.



Hi ha boscos d'*alzines*

Els *pobles* són més grans



La gent treballa en la ramaderia, l'*agricultura*



i la *indústria*



Les carreteres són amples





Completa

Estan en zones amb baixes i planes.

A l'hivern fa i a l'estiu fa

.....

Hi ha boscos d'.....

Els pobles són més.....



La gent treballa en la.....,

l'..... i la.....

Les són amples .



Escriu el nom



Còpia

A les comarques d'interior les carreteres son amples



Busca aquestes comarques d'interior

*Noguera, Segrià, Osona, Bages, Anoia, Segarra, Urgell,
Garrigues*

K	S	M	T	V	V	B	Z	X	A	S	B	R	I	O	P	B
Q	E	B	N	O	G	U	E	R	A	E	O	F	R	G	H	J
A	G	G	J	W	S	C	Ç	U	R	G	S	Y	I	K	J	K
Z	R	T	H	S	F	H	J	B	M	A	O	C	P	E	Y	L
G	I	R	R	O	T	X	A	A	S	R	N	U	O	J	G	B
C	A	Y	G	L	C	D	T	A	D	R	L	V	L	G	F	M
Ç	T	U	F	S	R	R	U	V	T	A	R	F	L	B	V	V
M	Y	I	D	O	I	K	L	B	A	G	E	S	E	D	A	F
Y	G	A	R	R	I	G	U	E	S	Y	E	L	S	N	I	D
T	J	P	A	N	O	I	A	W	T	Y	U	B	J	M	U	E
F	S	L	Q	S	D	S	W	R	B	J	S	F	H	T	Y	Q
D	X	K	A	I	V	M	H	E	H	H	U	R	G	E	L	L




Uneix la comarca amb la seva capital

Vallés Occidental

Vic

Vallés Oriental



Granollers

Osona

Sabadell

Conca de Barberà

Montblanc

LES COMARQUES DE COSTA

Estan al costat del mar.

A l'hivern fa poc fred i a l'estiu fa calor.

A la primavera i la tardor plou

Hi ha boscos de pins i arbustos.

Hi ha ciutats i pobles molt grans.

Es on viuen més persones.

La gent treballa en l'agricultura, la pesca, la indústria i el turisme.

Hi ha bones carreteres, ports i aeroports.



Completa

Estan al costat del.....

A l'..... fa poc fred i a l'..... fa calor.

A la primavera i la tardor

Hi ha boscos dei.....

Hi hai pobles molt.....

Es on viuen més persones

La gent treballa en l'agricultura, la

....., la indústria i el.....

Hi ha bones....., ports i

.....

LES COMARQUES DE COSTA

Estan al costat del *mar*



A l'hivern fa poc fred i a l'estiu fa calor

A la *primavera* i la *tardor* plou



Hi ha boscos de pins i *arbustos*
Hi ha ciutats i pobles molt grans.



Es on viuen més *persones*.

La gent treballa en l'agricultura, la *pesca*



la indústria i el *turisme*



Hi ha bones carreteres,

ports



i *aeroports*.





Completa

Estan al costat del.....

A l'..... fa poc fred i a l'..... fa calor.

A la primavera i la tardor

Hi ha boscos dei.....

Hi hai pobles molt.....

Es on viuen més persones

La gent treballa en l'agricultura, la
....., la indústria i el.....

Hi ha bones....., ports i

.....



Escriu el nom





Busca aquestes comarques de costa

Selva, Maresme, Tarragonès, Garraf, Barcelonès, Gironès

G	I	R	O	N	E	S	Z	X	A	S	B	R	I	O	P	B
A	E	B	N	L	G	I	E	K	A	E	O	F	R	G	H	A
R	G	G	J	W	S	C	T	U	R	P	S	Y	I	K	J	R
R	R	T	H	S	F	H	A	B	M	F	O	C	S	E	Y	C
A	F	R	R	O	N	X	R	A	S	R	N	U	E	J	G	E
F	A	Y	G	L	C	D	R	A	D	D	L	V	L	G	F	L
Ç	T	U	F	S	R	R	A	V	T	A	R	F	V	B	V	O
M	A	R	E	S	M	E	G	J	O	G	P	S	A	D	A	N
Y	G	Z	X	O	I	G	O	E	S	E	L	V	A	A	I	E
T	J	P	A	N	O	I	N	W	T	Y	U	B	J	M	U	S
F	S	L	Q	S	D	S	E	R	B	J	S	F	H	T	Y	Q
D	X	K	A	I	V	M	S	E	H	H	U	R	B	V	Y	L



Uneix la comarca amb la seva capital

Maresme Sant Feliu de Llobregat
Tarragonès Figueres
Alt Empordà Tortosa
Baix Ebre Tarragona
Baix Llobregat Mataró

Aquí tens un mapa de les comarques de Catalunya



Pinta de color verd ● les comarques de muntanya,
de color groc ● les comarques d'interior i de color blau ●
les comarques de la costa



Busca en el mapa les següents comarques i escriu el numero
en el seu lloc corresponen

- 1.Barcelonés
- 2.Vall d'Aran
- 3.Cerdanya
4. Segrià
5. Montsià
6. Baix Empordà
7. Garrotxa
- 8.Osona
9. Alta Ribagorça
10. Bages